

КОАМ, А-21

560

ВСЕРОССИЙСКАЯ ОЛИМПИАДА ШКОЛЬНИКОВ ПО ИСТОРИИ.

МУНИЦИПАЛЬНЫЙ ЭТАП.

Приморский край. 2024-2025 уч. г.

8 КЛАСС

Время выполнения – 2 часа

Максимальное количество баллов – 100

Задание № 1. Выберите правильный вариант ответа на вопрос. Ответ в виде цифр запишите в таблицу. (За каждый правильный ответ 1 балл. Всего 5 баллов).

1.1. Прочитайте фрагмент исторического источника и укажите пропущенное в нем имя князя.

«Древляне же, услышав, что <...> идет опять, так подумали со своим князем Милом: «Есть поведится волк к овцам, то унесет все стадо, если не убьют его, так и этот: если не убьем его, то всех нас погубит». И послали к нему [послов], говоря: «Почему идешь опять? Ты ведь взял дань». И не послушали их <...>. И выйдя из [своего] города Искрооспена, Древляне убили <...>, потому что их было мало».

- 1) Олег Вещий
- 2) Игорь Рюрикович
- 3) Святослав Игоревич
- 4) Владимир Святославич

1.2. Прочитайте фрагмент исторического источника и укажите, к королю и рыцарям какого государства обращено это послание.

«Вы, король <...>, и вы, рыцари, окажите справедливость королю неба: отдайте даяе, посланной сюда богом, небесным королем, князи всех добрых городов, которые вы взяли и подвергли насильно во Франции. Она вполне готова прийти к мирному соглашению, именно: если вы желаете сделать ей должное удовлетворение, возвратите Францию и заплатите за то, что владыки ею. И вы все, стрелки, военные товарищи, находящиеся перед Орлеаном, уходите, прочту

вас именем бога, в свои страны, а если не сделаете так, ждите вестей от даяе, которая скоро придет к вам, к вашему великому горю».

- 1) Испания
- 2) Англия
- 3) Священная Римская империя
- 4) Византийская империя

1.3. Выберите название архитектурного сооружения, точно существовавшего на территории Владимиро-Суздальского княжества по состоянию на конец XIII века.

- 1) Десятинная церковь
- 2) Собор Святой Софии
- 3) Церковь Параскевы Пятницы на Торгу
- 4) Успенский собор

1.4. Прочитайте отрывок из работы современного историка. Укажите имя князя, пропущенное в тексте.

«По немецким хроникам, в этой битве погибло 20 рыцарей (речь идет о полнокровных членах ордена, которых было всего 150 человек) и более подумывавши рядовых рыцарей. Немало было пленных. Успех новгородцев надолго умерил наступательный порыв рыцарей. Курши и жемайти восстали против ордена, успешно продолжили войну с ним литовский князь <...>».

- 1) Ягайло
- 2) Ольгерд
- 3) Миндовг
- 4) Витовт

1.5. Прочитайте отрывок из произведения древнерусской литературы и укажите его название.

«Подобало в то время старому помолодеть, а молодому плечи свои развернуть. И говорит чернец Осыбя своему брату Пересвету-чернецу: «Брат Пересвет, взгляну на тебе твоём раны тяжкие, уже кахитишься, брати, твоей голове с плеч на трапу ковыль, и моему сыну Якову лежать на зельной ковыль-траве...»

- 1) «Задонщина»
- 2) «Слово о полку Игореве»
- 3) «Моление» Даниила Заточника
- 4) «Повесть о разорении Рязани Батыем»

ОТВЕТ:

1.1	1.2	1.3	1.4	1.5
25	3)	4)	1)	1)

Котельничский, Юозу. Великий? Иштыя думаете ли?

Задание № 2. Согласны ли Вы с приведёнными ниже суждениями? Если согласны, напишите «Да», если не согласны – «Нет». Вынесите свои ответы в таблицу. (1 балл за каждый правильный ответ; максимальный балл – 10.)

- 2.1. Князь Игорь Рюрикович совершил поход против Византии в 947 году.
- 2.2. По распоряжению Владимира в Киеве была построена каменная церковь Успения Пресвятой Богородицы. В народе она получила название «Десятинная».
- 2.3. Кадри – мусульманский судья-чиновник, назначаемый правителем и вершащий правосудие на основе шариата.
- 2.4. Древнейшая из сохранившихся рукописных книг Руси – «Остромирово Евангелие».
- 2.5. Интердикт – в католической церкви временное запрещение всех церковных действий, налагаемое папой или епископом.
- 2.6. В 1508 году Аленизом Новым было завершено строительство Архангельского собора, позже ставшего царской усыпальницей.
- 2.7. Ганза – союз немецких свободных городов в XIII—XVII веках в Северной Европе для защиты торговли и купечества от власти феодалов и от пиратства.
- 2.8. Начало строительства острога на Кузнецкой земле было положено в XIII в.
- 2.9. В 1487 году была открыта Славяно-греко-латинская академия, которую возглавили братья Иоанникий и Софроний Лихуды.
- 2.10. Осенью 1611 года центром освободительного движения стал Нижний Новгород.

ОТВЕТ:

№ утверждения	2.1.	2.2.	2.3.	2.4.	2.5.	2.6.	2.7.	2.8.	2.9.	2.10.
Да/Нет	Нет	Да	Да	Нет	Да	Да	Да	Нет	Нет	Да

1 1 1 0 1 1 1 1 1 1 1

Задание № 3. По какому принципу образованы данные логические ряды? За каждый правильный ответ 2 балла (всего 10 баллов).

- 3.1. Мыг, десятина, оброк.
- 3.2. Архангельский собор, Успенский собор, Благовещенский собор.
- 3.3. Мстислав Удатный (Удатой), Даниил Романович, Судей, Котян.
- 3.4. Джованни Вокатчо, Франческо Петрарка, Джованни Пико делла Мирандола, Филиппо Брунеллески
- 3.5. 1346 г., 1356 г., 1415 г., 1428—1429 гг.

ОТВЕТ:

3.1. 28 даты

3.2. 0 соборы

3.3. 0 эпифора

3.4. 0 фамилии

3.5. 0 даты

Задание № 4. Что является лишним в данном логическом ряду? Ответ подчеркните, выбор объясните. За каждый правильный ответ 2 балла (всего 10 баллов).

- 4.1. Древляне, северяне, радимичи, мурома, поляне
- 4.2. Этномология, метрология, генеалогия, хронология, ономастика.
- 4.3. Понёва, армяк, тулун, тугул, косооборотка, зипун
- 4.4. Паперль, аспид, приввор, неф, дгтарь, каригида
- 4.5. Огнишанин, людин, смерд, закул, рядович, вятич

ОТВЕТ:

4.1. Этэ крэмэ муромы, этэ муромы.
(мурома)

4.2. Этэ крэмэ ономастика, этэ радимичи.

4.3. _____

4.4. Этэ крэмэ радимичи, этэ поляне,
этэ муромы.

4.5. Этэ крэмэ зипун, этэ муромы,
этэ поляне.

Задание № 5 Расположите в хронологическом порядке следующие события. Укажите ответ в виде последовательности цифр выбранных элементов. Ответ запишите в виде последовательности цифр. (За правильно выполненное задание в ряду 2 балла, при ошибке 0. Максимум 6 баллов.)

- 5.1
- 1) введение бессрочного сыска беглых крестьян
- 2) учреждение патриаршества в России
- 3) избрание на царство Михаила Романова
- 4) полная отмена местничества

5.2

- 1) Соборное уложение
- 2) Правда Ярослава
- 3) Судебник Ивана III
- 4) Устав Владимира Мономаха

5.3

- 1) битва на р. Калке
- 2) введение «урочных лет»
- 3) поход хана Тохтамыша на Москву
- 4) присоединение Твери к Московскому княжеству

ОТВЕТ:

1.1	1.2	1.3
1 4 2 3 5	2 1 3 4 5	1 4 3 2

Задание № 6 Прочитайте отрывки из работ отечественных историков, в которых дана характеристика царей, правивших в XVI-XVII вв. Определите, кому из русских царей соответствуют эти характеристики их и выпишите их имена в поле таблицы для ответа. (Каждый правильный ответ – 2 балла, максимум – 8 баллов).

6.1. «От природы он получил ум бойкий и гибкий, вдумчивый и немного насмешливый, настоящий великорусский, московский ум. Но обстоятельство, среди которых протекало детство царя, рано испортили этот ум, дали ему неестественное, болезненное развитие. Он очень рано осиротел – на четвертом году лишился отца, а на восьмом потерял и мать. Он с детства видел себя среди чужих людей. В душе его рано и глубоко врезалось и на всю жизнь сохранялось чувство сиротства, брошенного, одиночества. <...> Это развило в нем подозрительность, которая с годами превратилась в глубокое недоверие к людям» (В.О. Ключевский)

6.2. «Ученик Симеона Полоцкого, царь первый из русских надел польское платье, чему последовали и все придворные, отменил обычай брить голову и начал носить длинные волосы.

Царь не любил пышности ни в платье, ни в столе, ни в уборах. Сино экономно поддерживал монарх повелением не носить татарского платья и приказал ходить в подобном польскому, или древнем российском, северному климату свойственно» (В.А. Корсакова)

6.3. «Во многом благодаря усилиям [имя] русская церковь приобрела рант патриаршества, а Иов стал первым русским патриархом. За выбор [имя] царем было подавляющее большинство Боярской думы (в том числе самые влиятельные бояре), московских чинов государева дворян, выборных дворян от многих уездов и представителей горожан. Учитывая, что при царе Федоре он несколько лет фактически управлял государством, многими казалось естественным и логичным закрепить это формально» (В.Д. Назаров)

6.4. «Царь с необыкновенною охотой сам брался за перо или же начинал диктовать свои мысли дьякам. Его личные литературные попытки не ограничивались составлением пространных, литературно написанных писем и посланий. Он пробовал сочинять даже вирши. Он составил «Уложение сокольничья пути», т.е. подробный наказ своим сокольникам. Он начинал писать записки о польской войне. Он писал деловые бумаги, имел привычку своеобразно поправлять текст и делать прибавки в официальных грамотах, причем не всегда попадал в тон приказного изложения» (А.Е. Пресняков)

ОТВЕТ

6.1.	Иван IV Строгий.
6.2.	Федор Алексеевич.
6.3.	Федор Семенов.
6.4.	Михаил Иванович

Задание № 7. Соотнесите имя князя с его деятельностью. Ответ запишите в таблицу. (2 балла за каждое соответствие, максимум – 10 баллов.)

- | | |
|--------------------|---|
| А) Иван IV | 1. Принял титул «государь всея Руси». |
| Б) Василий I | 2. Присоединил Казанское ханство. |
| В) Иван Калита | 3. Построил первую каменную крепость в Северо-Восточной Руси. |
| Г) Иван III | 4. Получил от ордынского хана право сбора дани на Руси. |
| Д) Дмитрий Донской | 5. Впервые получил по завещанию отца право на великое княжение. |

ОТВЕТ:

А	Б	В	Г	Д
2	5	4	3	1

Задание № 8. Заполните пропуски в тексте (1 балл за каждый верный ответ; максимальный балл – 9.)




Из сочинения С.Ф. Планонова

Слабый золотоордынский хан (1-ияя) _____ пытался действовать против Москвы в союзе с (2.-государство) <...> В (3.-год) _____ г. <...> оставив вправо от себя верховья (4.-название) _____, (1.) _____ пришел на р. (5.-название) _____, в пограничные между Москвой и (2.) _____ места. Но и здесь он не получил никакой помощи от (2.) _____, а Москва встретила его сильной ратью. На (5.) _____ и стали друг против друга (1.) _____ и (6.-имя) _____ – оба в нерешимости начать прямой бой. (6.) _____ велел готовить столицу к осаде, отправил свою жену (7.-имя) _____ из Москвы на север <...>. Однако (6.) _____ так и не решился напасть на татар. В свою очередь и (1.) _____, простояв <...> с лета до ноября месяца, дождался снегов и морозов и должен был уйти домой. Сам он скоро был убит в усадьбе, а <...> самая Золотая Орда окончательно распалась в (8.-год) _____. Так окончилось для Москвы (9.-понятие) _____, славящее постепенно и в последнее свою пору бывшее номинальным.

ОТВЕТ:

1	Дмитрий
2	Измайловская Рязанская
3	1480 г.
4	Зима
5	Иван
6	Иван III
7	Сарай
8	1480 г.
9	Дмитрийское (Измайловское) Устье, Имя

Задание № 9. Рассмотрите изображения и выполните задания. (Каждый правильный ответ – 1 балл. За полностью правильно выполненное задание – дополнительно 2 балла. Максимум за задание – 14 баллов.)

Рисунок 1	Рисунок 2	Рисунок 3
		

1. Укажите название собора:

Рисунок 1 Собор Святого Духа в Москве
 Рисунок 2 Собор Святого Духа в Москве
 Рисунок 3 Собор Святого Духа в Москве

2. Укажите время создания (век):

Рисунок 1 XV в.
 Рисунок 2 XV в.
 Рисунок 3 XVI в.

3. Укажите имя заказчика:

Рисунок 1 _____
 Рисунок 2 _____
 Рисунок 3 Дмитрий


4. Как называется архитектурный стиль, возникший в XVI веке?

ОТВЕТ:

5. В честь какого события, посвящен храм, изображенный на рисунке 3?
 ОТВЕТ: В честь Святого Духа в Москве

6. При каком правителе (имя) в страну прибыли итальянские зодчие, строившие соборы на рисунках 1 и 2?
 ОТВЕТ: Иван III Великий

Задание № 10 Рассмотрите схему и выполните задания.



10.1. Выберите верные суждения. (За каждый правильный ответ – 1 балл. Если выбрано больше 6 утверждений, то 0 баллов. За каждый неверный выбор штраф – 1 балл. Максимум за задание – 4 балла.)

1. На схеме обозначена битва, в честь которой М. В. Ломоносов создал мемориальное панно.

2. На схеме обозначен город, названный «колыбелью русского флота».

3. Розовым цветом на схеме обозначены территории, утраченные по итогам войны, события которой обозначены на схеме.

4. Современником событий, обозначенных на схеме, был князь Дягилло.

5. В период событий, обозначенных на схеме, союзником России было Крымское ханство.

6. На схеме обозначены действия русского гребного флота.

7. Современником событий, обозначенных на схеме, был Афанасий Никитин.

8. В ходе войны, события которой отражены на схеме, был осажден Тамбов.







9. В результате событий, обозначенных на схеме, прекратила свое существование Речь Посполитая.

10. На схеме обозначен город, где был подписан мир по итогам войны, события которой отражены на схеме.

ОТВЕТ: 1, 2, 3, 6, 9, 10.

405

10.2. Выберите иллюстрации, на которых изображены события, которые произошли в период отраженных на схеме военных действий. (За каждый правильный ответ – 1 балл. Если выбрано больше 4 утверждений, то 0 баллов. За каждый неверный выбор штраф – 1 балл. Максимум за задание – 3 балла.)

<p>1</p> 	<p>2</p> 
<p>3</p> 	<p>4</p> 
<p>5</p> 	<p>6</p> 

ОТВЕТ: 1, 3, 4, 5

10.3. Выберите события всемирной истории, которые происходили в той же половине века, что и отражённая на схеме война. (За каждый правильный ответ – 1 балл. Если выбрано больше 6 утверждений, то 0 баллов. За каждый неверный выбор штраф – 1 балл. Максимум за задание – 4 балла.)

1. Образование Королевства Великобритания
2. Война за независимость США
3. Война за баварское наследство
4. Война за польское наследство
5. Война за испанское наследство
6. Взятие Бастилии
7. Великая французская революция
8. Установление «Эры свободы» в Швеции

ОТВЕТ: 1, 3, 4, 5

10.4. Выберите фрагменты из исторических источников, в которых описаны события, происходившие во время отражённой на схеме войны. (За каждый правильный ответ – 1 балл. Если выбрано больше 3 утверждений, то 0 баллов. За каждый неверный выбор штраф – 1 балл. Максимум за задание – 2 балла.)

А) Майя в 15 день в осмом часу дни в набат ударили, и прииде вестник из государевых царских полгак стрелцам: «Вы, стрелшы государевы, не знаете, что во царских полгакх учинилася, улухла у нас звезда поднебесная, не стало бошлаго брата государева царевича Ивана Алексеевича». И тогда собравшеся стрелшы со знаменами и со оружием, пришли в Кремль к полгакм государевым, и шли в полгаты безобшбочно, и учали вопить и кричать со слезами великими умильными гласы жалостно: «Свет ты наш, в. г. ц. и в. к. Пётр Алексеевич в. В. и М. и Б. Р. с., объяви ты нам своего государева брата царевича и великого князя Иоанна Алексеевича, жив ли есть или мёртв!» И тогда царь и царевич, и

царевны все вышли на Златое крыльце, царевич Иоанн Алексеевич стал говорить: «Меня хотели задавить до смерти Кирилла Нарышкина дети».

Б) На основании такого приговора царь приказал сжечь все разрядные книги, дабы вперед никто не мог считаться прежними случаями, возноситься службою своих предков и унижать других. Книги были преданы огню в сенях царской передней палаты, в присутствии присланных от патриарха митрополитов и епископов и назначенного для этого деля от царя боярина Михаила Долгорукова и думного дьяка Семёнова. Все, у кого в домах были списки с этих книг и всякие письма, относящиеся к местническим случаям, должны были доставлять в разряд, под страхом царского гнева и духовного запрещения.

В) Итак, шведы победили наше войско, это бесспорно; но надо понимать, над каким войском была одержана эта победа. Только старей Лифортковский полк и два полка гвардии были в двух атаках у Азова, а боев в поле, тем более с регулярным войском, никогда даже не видели. В других полках и офицеры, кроме некоторых полковников, и рядовые сами были рекрутами. К тому же из-за позднего времени (видимо, имеется в виду поздняя осень) был большой голод, потому что из-за великой грязи (на дорогах) было невозможно подвезти продовольствие. Одним словом, всё это легкие ипуршки были, а не искусство, так что же удивительного в том, что старое, обученное и тренированное войско одержало победу над таким неуксусным. [...] Но когда случилось это несчастье (или, лучше сказать, великое счастье), тогда необходимость победила лень и принудила работать.

Г) 14-го царское величество изволил осматривать на взморье устья реки и островов и усмотрел удобной остров. Когда шёл на средину того острова, почувствовал шум в воздухе, усмотрел орла парящего, и шум от парения крыл его был слышан; взяв у садыга багинет и вырезав два дёрна, положил дёрн на дёрн крестообразно и, зделав крест из дерева и вооружая в реченные дёрны, изволил говорить: «Во имя Иисус Христово на сём месте будет церковь во имя верховных апостолов Петра и Павла».

ОТВЕТ: Б, Г.

Задание № 11 Выберите монеты, связанные с Великой Отечественной войной. (За каждый правильный ответ – 1 балл. Если выбрано больше 6 утверждений, то 0 баллов. За каждый неверный выбор штраф – 1 балл. Максимум за задание – 5 баллов.)

1		2		3	
4		5		6	
7		8		9	

ОТВЕТ: 1, 3, 6, 9.

005

Желаем успеха!