

05119

ВСЕРОССИЙСКАЯ ОЛИМПИАДА ШКОЛЬНИКОВ

ПО ОБЖ 2023–2024 уч. г.

МУНИЦИПАЛЬНЫЙ ЭТАП

10–11 классы

2

Всероссийская олимпиада школьников по ОБЖ. 2023–2024 уч. г.  
Муниципальный этап. 10–11 классы.

Тестовые задания

Определите один правильный ответ.

1. При достижении какого возраста предоставляется право на управление транспортными средствами категории «М» и подкатегории «А1»?

- а) по достижению восемнадцатилетнего возраста
- б) по достижению шестнадцатилетнего возраста
- в) по достижению семнадцатилетнего возраста
- г) по достижению девятнадцатилетнего возраста

2

2. Сколько времени отводится в современном мегаполисе для прибытия первого подразделения пожарной охраны на место возгорания?

- а) 10 минут
- б) 15 минут
- в) 20 минут
- г) 25 минут

1

3. Что присваивается по окончании подготовки в ДОСААФ?

- а) квалификация
- б) военно-учётная специальность
- в) должность специалиста
- г) воинское звание

2

4. Какому должностному лицу предоставляется право заключать с военнослужащим первый контракт от лица Минобороны России?

- а) начальнику военного комиссариата
- б) командиру учебной воинской части
- в) командующему видом войск
- г) военному комиссару

1

5. Через какие органы и системы могут проникать аварийнохимические опасные вещества в организм человека?

- а) органы дыхания, кожные покровы, слизистые оболочки, желудочно-кишечный тракт
- б) органы осязания, волосные покровы, кишечник, кровеносная система
- в) опорно-двигательная система, мозжечок, головной мозг, слизистая оболочка
- г) желудочно-кишечный тракт, кожные покровы, кровеносная система, зрительная система

2

При выполнении заданий Вам предстоит выполнить определённую

работу, которую лучше организовать следующим образом:

- внимательно прочитайте задание;
- если Вы отвечаете на теоретический вопрос или решаете ситуационную задачу, обдумайте и сформулируйте конкретный ответ (ответ должен быть кратким, и его содержание следует вписать в отведённое поле, пишите чётко и разборчиво);
- при ответе на тесты определите верный ответ, обведите кружком букву (буквы), соответствующую(-не) выбранному Вами ответу.

За каждый правильный ответ Вы можете получить определённое членами жюри количество баллов, не выше указанной максимальной оценки.

Сумма набранных баллов за все решённые вопросы в двух форматах – итог Вашей работы. Максимальное количество баллов – 100.

Задания считаются выполненными, если Вы вовремя сдали их членам жюри.

**Желаем успеха!**

Всероссийская олимпиада школьников по ОБЖ. 2023–2024 уч. г.  
Муниципальный этап. 10–11 классы.

6. Какие группы опасных природных явлений наиболее распространены в Российской Федерации?

- 2
- а) космические, подземные, надземные, вулканические, снежные
  - б) чрезвычайные, местные, ситуационные, ландшафтные, биологические
  - в) геологические, метеорологические, гидрологические, природные
  - г) океанические, атмосферные, динамические, визуальные, медицинские

7. Как расшифровывается аббревиатура МЧС России?

- 2
- а) Министерство Российской Федерации по делам гражданской обороны, чрезвычайным ситуациям и ликвидации последствий стихийных бедствий
  - б) Министерство Российской Федерации по делам гражданской защиты, чрезвычайным последствиям и ликвидации стихийных бедствий
  - в) Министерство Российской Федерации по делам народной дружины, чрезвычайным стихийным бедствиям и ликвидации последствий
  - г) Министерство Российской Федерации по делам гражданской защиты, ликвидации последствий стихийных бедствий и чрезвычайных ситуаций

8. Отбор кандидатов на военную службу по контракту включает три этапа:

- 1
- а) начальный, углублённый, заключительный
  - б) начальный, углублённый, специальный
  - в) предварительный, начальный, углублённый
  - г) начальный, предварительный, углублённый

9. Какое количество суставов необходимо иммобилизовать при переломе бедра или плеча?

- 2
- а) два
  - б) три
  - в) четыре
  - г) количество не имеет значение

10. Укажите общие признаки ушиба, перелома и вывиха.

- 1
- а) боль, отёк, деформация конечности
  - б) боль, отёк, кровоизлияние, нарушение функции конечности
  - в) боль, отёк, кровоизлияние, изменение длины конечности
  - г) отёк, боль, пружинящее сопротивление при попытке пассивного движения

Всероссийская олимпиада школьников по ОБЖ. 2023–2024 уч. г.  
Муниципальный этап. 10–11 классы.

Определите все правильные ответы.

11. Где разрешается пассажиру размещать ручную кладь во время перелёта?

- 2
- а) под сиденьем впереди стоящего кресла
  - б) под своими ногами
  - в) в проходе слева от сиденья
  - г) на полке, расположенной над местом пассажира
  - д) в проходе справа от сиденья

12. Какую форму могут иметь знаки безопасности?

- 1
- а) овальную
  - б) прямоугольную
  - в) полукруг
  - г) конусообразную
  - д) круглую

13. Гражданам при постановке на воинский учёт предоставляется право:

- 1
- а) выбора должности по виду или роду войск
  - б) выбора должности по окончании обучения в учебном центре
  - в) выбора должности по гражданской специальности
  - г) выбора должности по имеющимся навыкам
  - д) выбора должности по спортивным достижениям

14. Для каких целей предназначены противорадиационные укрытия?

- 1
- а) для защиты от проникающей радиации, излучения в условиях радиоактивного заражения, светового излучения, ударной волны ядерного взрыва
  - б) для защиты от попадания радиоактивных веществ в органы дыхания, на кожу и одежду, от попадания на кожу и одежду капель отравляющих веществ и бактериальных аэрозолей
  - в) для защиты от попадания химически опасных веществ, от природных явлений, гидрологических явлений, космического излучения,
  - г) для защиты населения и производительных сил страны от оружия массового поражения, а также при стихийных бедствиях, производственных авариях
  - д) для защиты от проникающей химической реакции, излучения в условиях химического заражения, светового излучения, ударной волны ядерного взрыва



Всероссийская олимпиада школьников по ОБЖ. 2023–2024 уч. г.  
Муниципальный этап. 10–11 классы.

**15. Выберите из предложенных вариантов зоны действия локальных систем оповещения?**

- а) в районах размещения ядерно- и радиационно-опасных объектов
- б) в районах размещения медико-опасных объектов
- в) в районах размещения природно-опасных объектов
- г) в районах размещения химически опасных объектов
- д) в зонах отчуждения атомных электростанций

**16. Обязательная подготовка граждан к военной службе предусматривает:**

- а) получение начальных знаний в области обороны
- б) подготовку в военных комиссариатах
- в) подготовку по основам военной службы в образовательных учреждениях и в учебных пунктах
- г) подготовку в учебных пунктах
- д) подготовку на сборах

**17. Добровольная подготовка граждан к военной службе предусматривает:**

- а) самостоятельное получение начальных знаний в области обороны
- б) занятие военно-прикладными видами спорта и обучение по дополнительным программам в школе
- в) участие в олимпиадах по основам безопасности жизнедеятельности
- г) участие в туристических пеших походах
- д) обучение в учебных центрах и в образовательных учреждениях по программам подготовки офицеров запаса

**18. Какие из представленных ниже правил оказания первой помощи при ранении глаз являются верными?**

- а) промыть повреждённый глаз водой
- б) нельзя промывать повреждённый глаз водой
- в) наложить стерильную повязку на повреждённый глаз
- г) наложить стерильную повязку на два глаза
- д) закапать в повреждённый глаз антибактериальные капли

**19. Какие из представленных ниже правил оказания первой помощи при ранении брюшной полости являются верными?**

- а) выступающие фрагменты внутренних органов накрыть чистой тканью, приложить холод к животу
- б) вправить выпавшие из раны внутренние органы
- в) дать обезболивающее средство
- г) дать обильное тёплое питьё
- д) не давать обезболивающее средство и питьё

Всероссийская олимпиада школьников по ОБЖ. 2023–2024 уч. г.  
Муниципальный этап. 10–11 классы.

**20. Укажите приёмы восстановления проходимости дыхательных путей:**

- а) приподнимание головы
- б) запрокидывание головы
- в) выдвижение нижней челюсти
- г) использование лицевой маски
- д) использование пластиковой плёнки с клапаном одностороннего движения воздуха

Таблица ответов на тестовые задания теоретического тура

Номер задания	Верный ответ	Номер задания	Верный ответ
1		11	
2		12	
3		13	
4		14	
5		15	
6		16	
7		17	
8		18	
9		19	
10		20	







Максимум за задания 60 баллов.

Всероссийская олимпиада школьников по ОБЖ. 2023–2024 уч. г.  
Муниципальный этап. 10–11 классы.

Теоретические задания

12

1. Укажите стрелками соответствие между знаками и их названиями.

	Внимание. Электромагнитное поле.
	Запрещается разбрызгивать воду.
	Запрещается использовать в качестве питьевой воды.
	Осторожно. Вредные для здоровья аллергические вещества (раздражающие).
	Осторожно. Биологическая опасность (Инфекционные вещества).
	Внимание. Магнитное поле.

Максимум за задание 12 баллов.

Максимум за задание 8 баллов.

4. Опишите свои действия, если Ваш дом (квартира) оказался вблизи эпицентра взрыва при совершении террористического акта.

Максимум за задание 10 баллов. Максимум за работу 100 баллов

Всероссийская олимпиада школьников по ОБЖ. 2023–2024 уч. г.  
Муниципальный этап. 10–11 классы.

10

2. Укажите знаком «+» в крайнем левом или крайнем правом столбце, какие из перечисленных характеристик относятся к манёврам силами воинского подразделения, а какие к манёврам средствами воинского подразделения.

Ответ	Вид манёвра	Манёвр с рёвства ми	Ответ
2	сосредоточение огня		+
	обход		
2	распределение огня		+
	охват		
	перенос огня		+

Максимум за задание 10 баллов.

4

3. Вывихи – стойкое изменение правильных анатомических взаимоотношений (конгруэнтности) суставных поверхностей, сопровождающееся нарушением функции поражённого сустава.

Для вывиха характерны определённые признаки, которые можно разделить на достоверные и косвенные (вероятные) признаки.

Запишите цифры нижеперечисленных признаков вывиха в соответствующие графы таблицы.

Признаки вывиха:

- а) отёк;
- б) деформация конечности в области сустава;
- в) боль;
- г) нарушение функции конечности;
- д) изменение длины конечности;
- е) вынужденное положение конечности;
- ё) пружинящее сопротивление при пассивных движениях;
- ж) кровоизлияние.

Достоверные признаки	Косвенные признаки
A	Г
B	Д
B	Е
E	Ж

0

Максимум за задание 8 баллов.

4. Опишите свои действия, если Ваш дом (квартира) оказался вблизи эпицентра взрыва при совершении террористического акта.

Максимум за задание 10 баллов. Максимум за работу 100 баллов